

(نورة جوان 2005)

امتحان بكالوريا التعليم الثانوي

للمدة : 03 ساعات

شعب : علوم لطبيعة والحياة + العلوم الدقيقة + التكنولوجيا .

اختبار في مادة التاريخ والجغرافيا

أجب عن سؤال واحد في التاريخ وسؤال واحد في الجغرافيا.

1 - تاريخ :

السؤال الأول :

في الكلمة الافتتاحية لرئيسة الحكومة الهندية انديرا غاندي في مؤتمر حركة عدم الانحياز المنعقد بنيودلهي يوم الاثنين 07 / 03 / 1983 ، قالت : << ... إن عدم الانحياز يمثل الاستقلال الوطني والحرية، وأن أهدافه هي الابتعاد عن الأحلاف العسكرية والمساواة بين الأمم إن غاية عدم الانحياز هي التعاون الدولي من أجل التنمية والمنفعة المتبادلة ... ودعت إلى إقامة نظام اقتصادي عالمي جديد ... >> .

المرجع: يحيى أحمد الكعكي << عدم الانحياز

بين النظرية والتطبيق >> ص 260 .

المطلوب:

انطلاقا من النص واعتمادا على ما درست:

- 1- استخرج من النص أهداف حركة عدم الانحياز. (02 نقاط)
- 2- بين نوافع التأكيد على إقامة نظام اقتصادي عالمي جديد. (02 نقاط)
- 3- اشرح المفاهيم الواردة في النص: الأحلاف العسكرية - النظام الاقتصادي العالمي الجديد. (1.5 نقطة)
- 4- أبرز الإهتمامات المشتركة بين مؤتمري الجزائر ونيودلهي. (1.5 نقطة)

المنهجية: - المقدمة (02 نقاط) - الخاتمة (01 نقطة)

السؤال الثاني :

في اجتماع الأعضاء الإثني والعشرين (22) بكلوصالمبي << المدنية حايا >> في 25 جوان 1954 .
قال ديدوش مراد :

<< إن الشعب أشبه بخصن يابس لا ينتظر سوى النار ليشتعل، يجب أن نعطي الانطلاقة وإذا استشهدنا فسيخلفنا آخرون يواصلون السير بالثورة قدما نحو الاستقلال..... يجب أن نشعل الفتيلة، ومن أجل هذا فلسنا في حاجة إلى وسائل ضخمة ... >> .

* - المرجع: دورية الذاكرة - المتحف الوطني للمجاهد - السنة الأولى -

العدد الأول 1994 - ص 19.

المطلوب:

انطلاقا من النص واعتمادا على ما درست:

- 1 - تتبع التطورات التي عرفتها الحركة الوطنية من 1950 إلى 1954 . (2.5 نقاط)
- 2 - استعرض الظروف المحلية والعربية التي أحاطت بتداعج الثورة الجزائرية. (03 نقاط)
- 3 - بين الاستعدادات التي سبقت بتداعج الثورة التحريرية. (01.5 نقاط)

المنهجية: - المقدمة (02 نقطة) - الخاتمة (01 نقطة)

السؤال الثالث :

- إليك تواريخ مطمية هامة:

* 01 - 09 - 1939 * 23 - 10 - 1942 * 06 - 08 - 1945 * 29 - 11 - 1947 .

المطلوب:

- 1 - بين طبيعة كل حدث. (02 نقاط)
 - 2 - أبرز أثر كل حدث في العلاقات الدولية. (04 نقاط)
 - 3 - استخلص العلاقة بين الأحداث المعطية للثلاثة الأولى. (02 نقاط)
- المنهجية: المقدمة (01 نقطة) - الخاتمة (01 نقطة)

II - الجغرافيا:

السؤال الأول:

للك المعطيات الإحصائية الخاصة بالزراعة لكل من الصين الشعبية و (و.م.أ) لسنة 2000 .

البلد	المنتوج	القمح	الأرز	الثرة	الأيقار
و.م.أ	نسبة المساهمة العالمية %	10.5	01.7	42.9	07,02
الصين		17.2	31.8	17.8	07,04
و.م.أ	المرتبة العالمية	03	11	01	04
الصين		01	01	02	02

المطلوب: المرجع: الصور الاقتصادية للعالم 2002.

- 1 - مثل نسب المساهمة العالمية بواسطة أعمدة بيانية لكل من البلدين في مجال واحد مع التعليق. للمقياس: 1 سم = 04 % . (3 نقاط)
 - 2 - أبرز خصائص الزراعة الأمريكية والصينية. (03 نقاط)
 - 3 - استخلص دور الزراعة في البلدين. (02 نقاط)
- المنهجية: المقدمة: (01 نقطة) ، الخاتمة (01 نقطة)

السؤال الثاني:

للك جدول يمثل أهم الدول المنتجة للبتروول لسنة 2000.

الدولة	المنتجة العربية سعودية	و.م.أ	روسيا	نرويجيا	البحرين
كمية الإنتاج مليون/طن	448	352	323	181	176

المطلوب: المرجع: حلة العالم 2002.

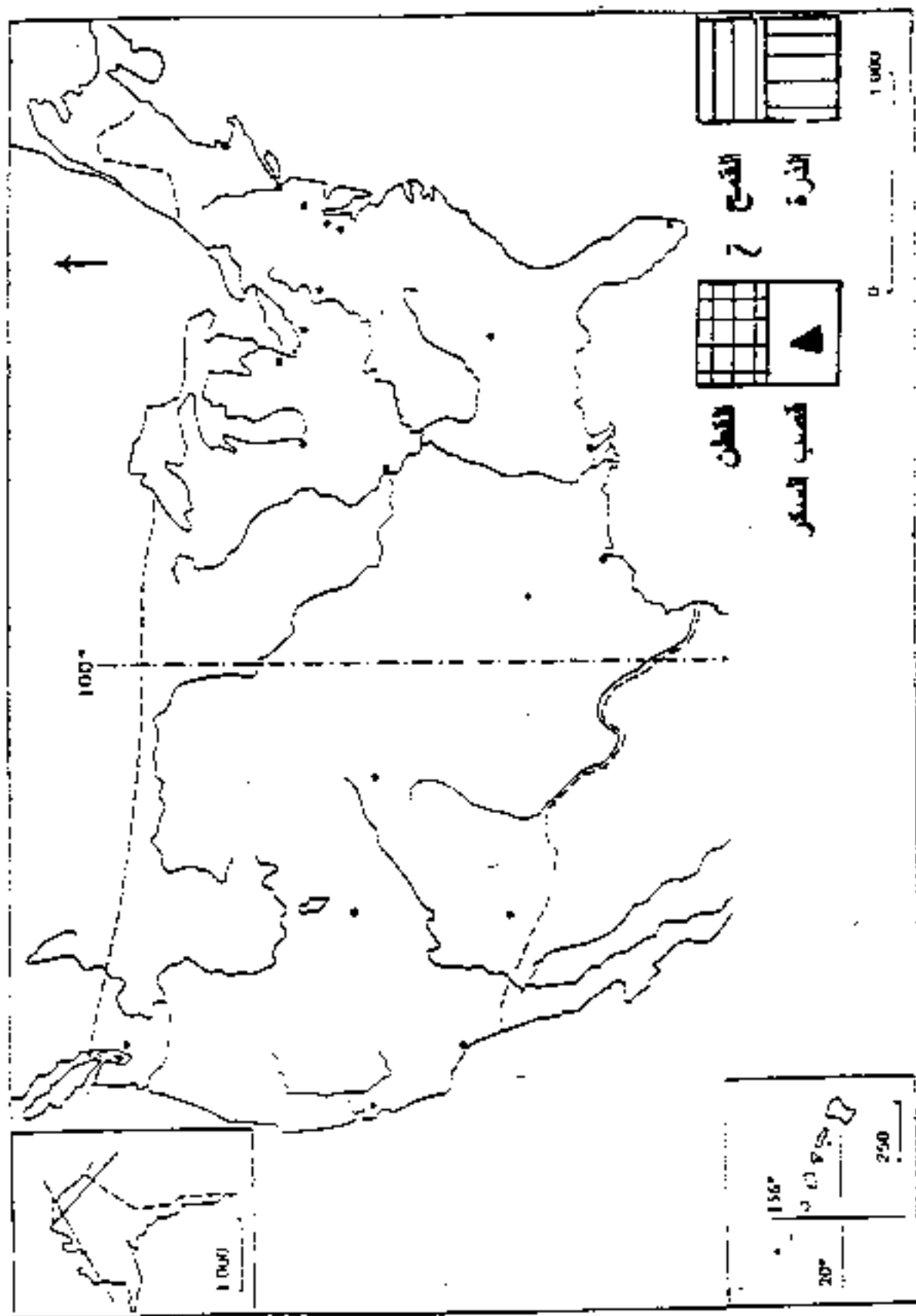
- 1 - مثل كمية الإنتاج بأعمدة بيانية، ثم علق عليه بمقياس 1 سم = 50 م ط (03 نقاط)
 - 2 - استخرج من الجدول الدول المتخرطة في منظمة الأوبيب. (01 نقطة)
 - 3 - أبرز دور الأوبيب في تجارة البترول الدولية. (02 نقاط)
 - 4 - بين الدور الاقتصادي والسياسي لهذه العادة. (02 نقاط)
- المنهجية: المقدمة: (01 نقطة) ، الخاتمة (01 نقطة)

السؤال الثالث:

في 1999 ساهمت الولايات المتحدة الأمريكية بنسبة 39.5% من الإنتاج العالمي للثرة، و 12% من إنتاج القمح العالمي و 19.8% من إنتاج القطن العالمي، وكذا 2.6% من قصب السكر العالمي. المطلوب: تطلقا من الفقرة واعتمادا على ما درست:

- 1- علق احتلال الولايات المتحدة الأمريكية للمراتب الأولى في الإنتاج العالمي لهذه المواد. (3.5 نقاط)
- 2- أبرز دور الإنتاج الزراعي في السياسة الخارجية الأمريكية. (02 نقاط)
- 3- وزع على الخريطة المرفقة المحاصيل الزراعية المذكورة في الفقرة. (2.50 نقاط)

المنهجية: المقدمة (01 نقطة) ، الخاتمة: (01 نقطة)



يتجز العمل المطلوب على الخريطة المرفقة وتعاد مع أوراق الإجابة .

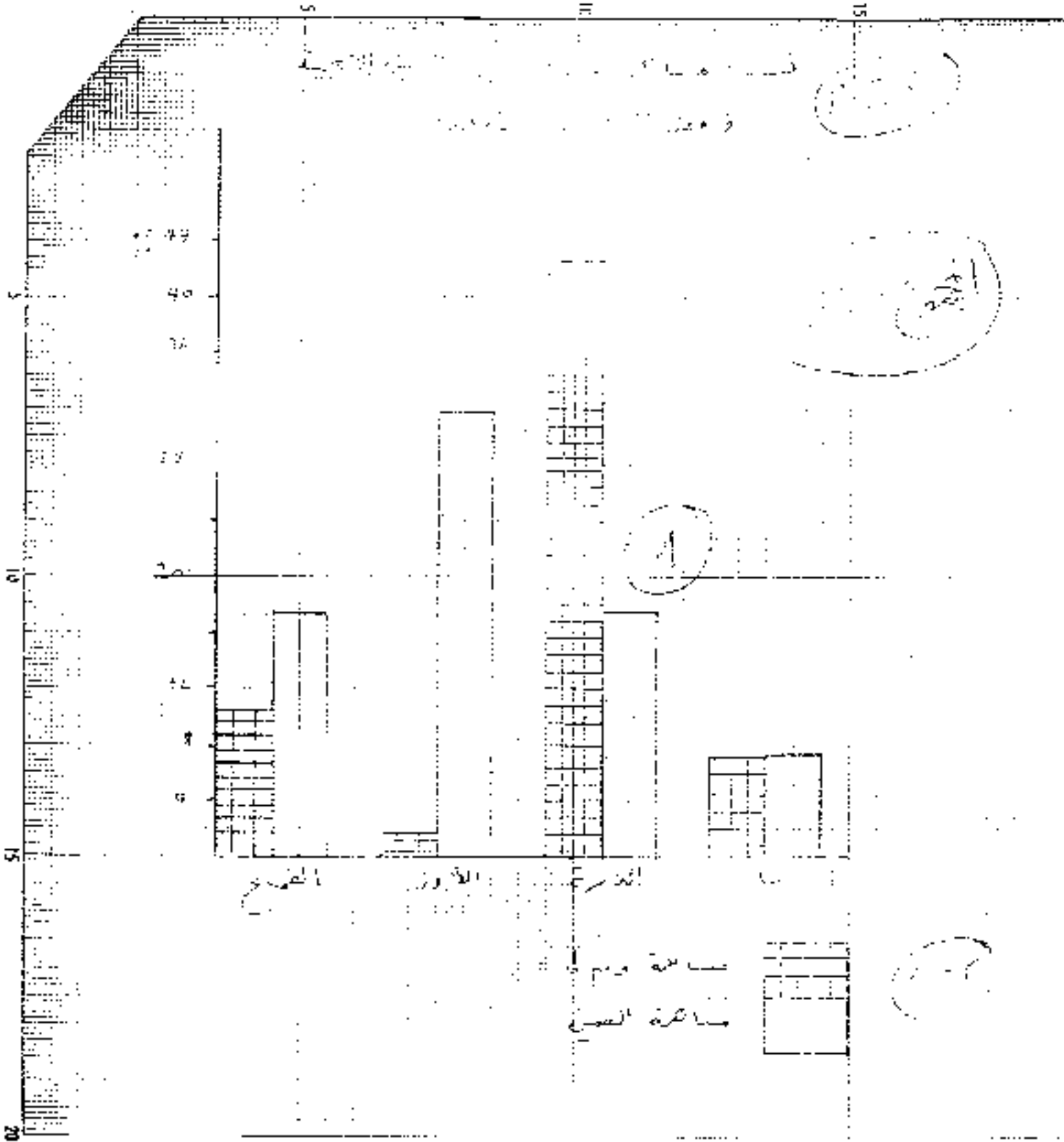
العلامة		عناصر الموضوع	محلر الموضوع
مجزأة	مجموع	التاريخ السؤال الأول	
0,75		صاحب النص ناندورا غاندي (1917-1984) ابنة الزعيم الهندي نهرو، كتبت وكسبه وزراء الهند، اغتيلت نتيجة تشندها في معالجة الأزمة للديمقراطية في الهند	المعلقة
0,25		طبيعة النص: تاريخي-سياسي	
0,5		الإطار الزمني والمكاني: نيودلهي بالهند في 1983/03/07	
0,5		الفكرة العامة: إبراز أهداف حركة عدم الانحياز	
0,5		1- أهداف حركة عدم الانحياز:	المعرض
0,5		أ- تحقيق الاستقلال والسيادة الوطنية	
0,5		ب- رفض الأحلاف العسكرية	
0,5		ج- تحقيق المساواة بين الأمم	
0,5		د- تحقيق التنمية	
0,5		هـ - إقامة نظام اقتصادي عالمي جديد	
0,5		2- دوافع التأكيد على إقامة نظام اقتصادي عالمي جديد	
0,5		أ- الهوة السحيقة بين اقتصادات عالم الشمال المتطور وعالم الجنوب المتخلف	
0,5		ب- هيمنة عالم الشمال على الاقتصاد العالمي صناعة 80% تجارة 70% زراعة 65%	
0,5		ج- هيمنة نول الشمال على ثروات عالم الجنوب.	تابع
0,5		د- احتكار نول الشمال للتكنولوجيا.	المعرض
0,75		3- شرح المفاهيم الواردة في النص.	
0,75		• الأحلاف العسكرية: كتل عسكري ينشأ بين دولتين أو أكثر في هيكل تنظيمية تفرض عملية المصالح المشتركة في وقت السلم أو الحرب كتلك التي تنشأ في إطار الحرب الباردة	
0,75		• النظام الاقتصادي العالمي الجديد: مجموعة من القواعد والمبادئ التي تضبط وتنظم العلاقات الاقتصادية العالمية والذي تهيمن عليه الدول المتطورة، بينما تسعى الدول المتخلفة إلى تغييره بما هو أكثر عدلا وتوازنا	
0,1		4- الاهتمامات المشتركة بين مؤتمر الجزائر نيودلهي.	
0,5		أ- اقتصادية: المطالبة بإقامة نظام اقتصادي عالمي جديد أكثر عدلا	
0,5		التأكيد على مبدأ السيادة الوطنية على الثروات الطبيعية لضمان تسخيرها في التنمية	
0,5		إعادة جدولة ديون عالم الجنوب وتخفيف الاحتكارات الغربية للتبادل التجاري.	
0,5		ب- سياسية: إدانة السياسة للتوسعية والعدوانية لاسرائيل	
0,1		التحديات الاقتصادية الكبرى للحركة، في ظل النظام الاقتصادي العالمي القائم.	الخاتمة

مجموع	مجزأة	عناصر الاجابة	محلور الموضوع
		التاريخ السؤال الثاني	
		صاحب النص : ديدوش مراد (1927-1955) أحد أبرز قادة الثورة، عضو في المنظمة السرية ولجنة 22 والستة. وقاتل للولاية الثانية.	المقدمة
02	0.75	طبيعة النص: تاريخي وسياسي .	
	0.25	الإطار الزمني والمكاني . 1954/06/25 بالمدينة الجزائر .	
	0.5	الفكرة العامة: نضج الحركة الوطنية استعداد الشعب والنخبة لتفجير الثورة.	
	0.5		
		1- تطور الحركة الوطنية بين 1950-1954	العرض
	0.5	أ- اكتشاف فرنسا أمر المنظمة السرية (وما تبع ذلك من اعتقال في صفوف مناضليها	
02.5	0.5	ب- إنشاء الجبهة الجزائرية للدفاع عن الحرية في 1951/08/05 .	
	0.5	ج- أزمة حركة الانتصار للحريات الديمقراطية .	
	0.5	د- إنشاء اللجنة الثورية للوحدة والعمل في 54/03/20 التي تكفلت بأعداد الثورة	
	0.5	هـ - انعقاد لجنة (22) في المنية وكذا اجتماع لجنة الستة الذي تقرر فيه : تحديد تاريخ اندلاع الثورة. تحويل الحركة إلى جبهة التحرير الوطنية والاتفاق على صياغة بيان أول نوفمبر .	
		2) الظروف المحلية والعربية التي أحاطت باندلاع الثورة	
03	0.5	أ- الظروف المحلية : تدهور الوضع الاجتماعي للسكان انشار وتنامي الوعي الوطني	
	0.5	زيادة القمع الاستعماري بعد اكتشاف المنظمة السرية	
	0.5	السياسة الفرنسية (تجهيل تفجير تزوير...)	
	0.5	الصراع داخل حركة الانتصار للحريات الديمقراطية	
		ب- الظروف الخارجية (العربية)	
	0.5	تأسيس الجامعة العربية في 1945	
	0.5	استقلال سوريا ولبنان سنة 1946	
	0.5	استقلال ليبيا سنة 1951	
	0.5	نجاح الثورة المصرية في 1952 ودعمها لحركة التحرير العربية	
	0.5	ظهور الكفاح المسلح في كل من تونس والمغرب	
1.5		3) الاستعدادات التي سبقت اندلاع الثورة:	
	0.5	تأسيس المنظمة السرية في 1947	
	0.5	إنشاء اللجنة الثورية للوحدة والعمل في مارس 1954	
	0.5	اجتماع لجنة (22) ولجنة (06) في 1954	
01	01	الحركة الوطنية من النضال السياسي الى الكفاح المسلح.	الخاتمة

17

محلور الموضوع	التاريخ للسؤال الثالث	عناصر الإجابة	مجزأ	مجموع
المقدمة		أحداث مغنميه هامة شكلت منعرجات حاسمة في سير الحرب العالمية والأوضاع التي تلتها. (1) - طبيعة كل حدث:	01	01
		1939/09/01: بداية الهجوم الألماني على بولندا وتدلاع الحرب العالمية الثانية	0,5	02
		23/10/1942 بداية معركة العالمين (بمصر) بين الحلفاء والمحور .	0,5	
		06/08/1945 إلقاء أول قنبلة نوية أمريكية على مدينة هيروشيما اليابانية	0,5	
		29/11/1947 صدر قرار مجلس الأمن رقم 181 والمتعلق بتقسيم فلسطين إلى دولة يهودية ودولة فلسطين ومنطقة القدس الدولية	0,5	
العرض		(2) - أثر كل حدث في العلاقات الدولية:	01	04
		1939/09/01 تدلاع الحرب العالمية الثانية		
		إعلان فرنسا وبريطانيا الحرب على ألمانيا في 03/09/1939		
		نخول إس الحرب واقتسام بولندا		
		تسارع رقعة الحرب	01	
		23/10/1942 بداية تراجع قوى المحور		
		أولى انتصارات الحلفاء		
		06/08/1945 استسلام اليابان وقبوله شروط الحلفاء	01	
		تجدد الصراع بين الشرق والغرب والسباق نحو التسليح		
		29/11/1947 تمكين اليهود من تحقيق حلمهم	01	
		إعلان قيام إسرائيل في ماي 1948		
		قيام أول مواجهة عربية إسرائيلية		
		غرس كيان غريب في المنطقة العربية		
		(3) - العلاقة بين الأحداث العربية الثلاث الأولى		
		01/09/39 - تدلاع العالمية الثانية - انتصارات حاسمة للمحور ←	01	02
		دخول التوم الحرب ← بداية انتصار الحلفاء ←	01	
		23/10/42 ← تراجع المحو ← إنهاء الحرب أوربيا ←		
		القنبلة النوية يوم 06/08/45 لكسر الصمود الياباني		
الخاتمة		كانت لهذه الأحداث انعكاسات خطيرة على مسار العلاقات الدولية، ولا زال بعضها قائما إلى اليوم	01	01

العلامة		عناصر الموضوع	محاور الموضوع
مجموع	مجزأة	الجغرافيا السؤال الأول	
01	01	وثيقة جغرافيا تطرح إشكالية الإنتاج للفلاحي في الصين والولايات المتحدة الأمريكية ومساهمتها في التجارة الخارجية.	المقدمة
	0.5	1- التمثيل: العنوان والمفتاح	
	01	الإنجاز	
		التعليق على الرسم:	
03		- ضخامة إنتاج المحاصيل المذكورة.	
	0.5	- ارتفاع % مساهمة البلدين في الإنتاج العالمي: قوم. 42,9% الذرة	
		الصين 31,8% أرز	
	0.5	- احتلال مراتب متقدمة في الإنتاج العالمي	
		- المنتجات الواردة في الجدول تحتل مكانة خاصة في اقتصاد البلدين	
	0.5	- التباين الكبير في إنتاج الأرز بين البلدين لأسباب مناخية أساسا.	
		2- خصائص الزراعة الأمريكية والصينية:	
		أ- خصائص الزراعة الأمريكية:	العرض
		* سعة المساحة	
	0.5	* المكننة والاعتماد على الطرق العلمية	
		* ضخامة الإنتاج وتنوعه	
	0.5	* قوة اليد العاملة	
03		* التخصص في الإنتاج	
		* الطابع التجاري	
	0.5	* ارتباط الزراعة بالمؤسسات المالية والصناعية	
		ب- خصائص الزراعة الصينية:	
	0.5	* ارتفاع % اليد العاملة	
	0.5	* الاعتماد على النظام التعاوني القائم على التخطيط	
		* الاعتماد على الأساليب التقليدية	
	0.5	* ارتفاع % المساهمة في الدخل القومي	
		3- دور الزراعة في البلدين: أ- في الولايات المتحدة	
	01	* تساهم بنسبة 11% من الصادرات و 3% من الدخل القومي	
02		* تغطية حاجيات السوق الداخلية (غذاء + صناعة)	
		* استخدام المنتجات الزراعية كوسيلة ضغط.	
	01	ب- في الصين	
		* تغطية حاجيات السكان	
		* تساهم ب 45% من الدخل الوطني و 64% من اليد العاملة	
		* تدعيم الصناعة.	
01	01	الاستغلال الجيد للإمكانيات معن البلدين من احتلال الصدارة في المنتجات الغذائية الأساسي	الخاتمة

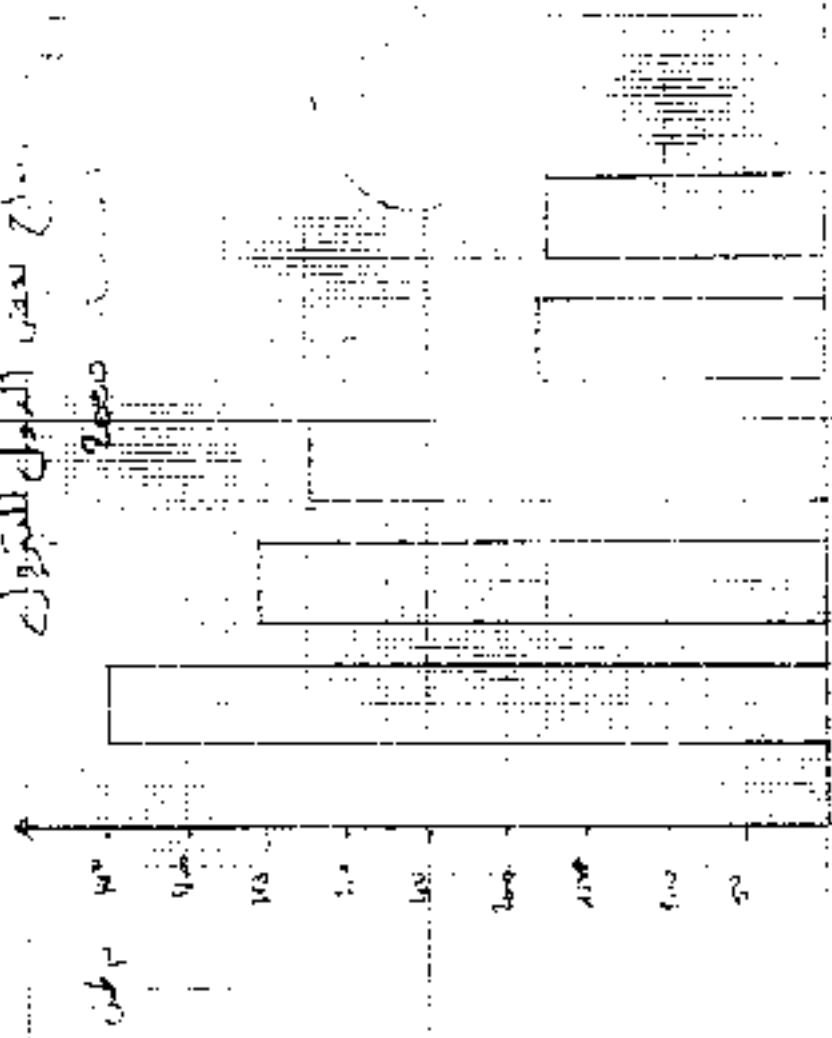


محلور الموضوع	عناصر الإجابة	مجزأة	مجموع
المقدمة	1 الجغرافيا: السؤال الثاني وثيقة جغرافية اقتصادية تمثل أهم الدول المنتجة للبتروول في العالم 01- التمثيل البياني: الإجاز + العنوان المفتاح التعليق: - يمثل الجدول أهم الدول المنتجة للبتروول سنة 2000 - يمكن تقسيمها إلى فئتين	01	01
العرض	• دول متقدمة - الو. م. أ. + روسيا • دول متخلفة - السعودية + إيران + فنزويلا - تأتي العربية على رأس الدول المنتجة	01.2 5 0.25	03
	2- الدول المنخرطة في منظمة الأوبك • العربية السعودية • فنزويلا • إيران	0.5 0.5 0.5	01
	3- دور الأوبك في التجارة الدولية للبتروول: التخفيف من سيطرة الشركات الاحتكارية على السوق البترولية العالمية عن طريق - * تشكيل قوة مؤثرة في السوق العالمية للبتروول إنتاجا وأسعارا * التنسيق مع الدول غير العضوة في المنظمة لتجنب تدهور الأسعار	01 0.5 0.5	02
	4- الدور الاقتصادي والسياسي للبتروول: أ - الدور الاقتصادي: * مصدر أساسي للدخل القومي بالنسبة لكثير من دول العالم * يمثل الصود الفقري بالنسبة لاقتصاديات بعض الدول كالكويت مثلا. * مادة أولية لكثير من الصناعات * مصدر أساسي للطاقة * مادة تجارية أساسية في سوق المبادلات التجارية العالمية * تلثر السياسات التنموية للدول المصدرة بسبب تذبذب الأسعار	01 0.5 0.5 0.5 0.5 0.5 0.5	02
الخاتمة	ب- الدور السياسي: * أداة ضغط سياسية في يد الدول المنتجة (حرب 73) * مصدر لكثير من الصراعات والنزاعات الإقليمية والدولية مادة استراتيجية ومحل صراع بين المنتجين والمستهلكين	01	01

27

Handwritten signature or initials

توزيع الدخل للبريد

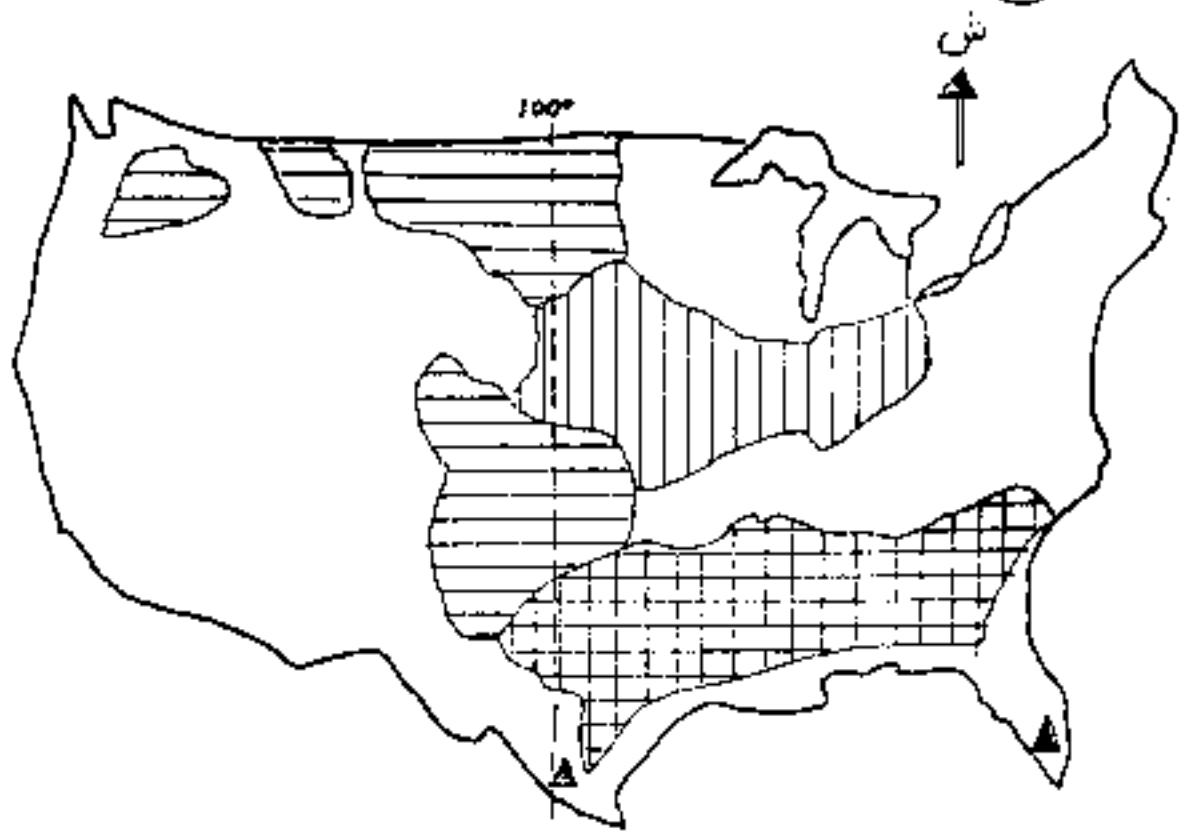


Handwritten labels for the x-axis categories: 100, 200, 300, 400, 500, 600, 700, 800

مجموع	مجزأ	عناصر الاجابة	محاور الموضوع
01	01	الجغرافيا: السؤال الثالث تمثل المعطيات مدى مساهمة الولايات المتحدة في بعض المنتوجات الزراعية	المقدمة
03.5	0.5	01-تعطيل احتلال الولايات المتحدة للمراتب الأولى:	العرض
	0.5	أ-عوامل طبيعية:	
	0.5	*سعة المساحة الزراعية	
	0.5	*تنوع المناخ وملائمته	
	0.5	*خصوبة التربة	
	0.5	*توفر شبكة مائية دائمة	
	0.5	ب-عوامل بشرية:	
	0.5	*وفرة اليد العاملة المؤهلة	
	0.5	*استخدام أحدث الأساليب والوسائل	
	0.5	*توفر رؤوس الأموال	
02	0.5	*اتساع السوق الاستهلاكية (داخلية وخارجية)	الخاتمة
	0.5	*دعم وتشجيع الدولة للقطاع .	
	01	9- دور الإنتاج الزراعي في السياسة الخارجية الأمريكية	
	0.5	• تعزيز المكانة السياسية للولايات المتحدة عالميا	
02.5	0.5	• استعمال الإنتاج الزراعي كأداة ضغط ومسلومة مع الدول الكبرى	
	0.5	• استعماله كسلاح للهيمنة والسيطرة على الدول النامية	
	02	10- توزيع المحاصيل على الخريطة:	
01	0.5	*الإجاز	
	01	*المفتاح	
	01	*العنوان	
	01	إمكانات الزراعة الأمريكية مكنتها من تحقيق إنتاج ضخم يستثمرته لتحقيق أهدافها السياسية	

توزيع المحاصيل الزراعية الواردة في الفقرة

0,1



02

- 0,10 القمح
- 0,20 الذرة
- 0,50 القطن
- 0,20 قصب السكر



0,1