

امتحان بهالوريا التعليم الثانوي

(دورة جوان 2001)

المدة : 3 ساعات

الشعب : آداب وعلوم إنسانية + آداب وعلوم إسلامية + آداب ولغات أجنبية + تسيير واقتصاد .

أختار في وثيقة التاريخ و الجغرافيا

**اجب عن سؤال في التاريخ وسؤال في الجغرافيا :
التاريخ**

السؤال الأول : انعقد مؤتمر الصومام في 20 أوت 1956 . بعد أن حققت الثورة الجزائرية

انتصارات عسكرية داخلية و انتصارات دبلوماسية معتبرة . وواجهت تحديات مصيرية .

المطلوب : انطلاقا من الفقرة واعتمادا على ما درست :

- 1 - حدد الانتصارات السياسية والعسكرية التي حققتها الثورة قبل انعقاد مؤتمر الصومام .
- 2 - أبرز الأبعاد السياسية والعسكرية لانعقاد مؤتمر الصومام داخل الوطن .
- 3 - حدد على خريطة الجزائر المرفقة : مكان انعقاد المؤتمر و أرقام وأسماء الولايات العسكرية وفق ما أقره مؤتمر الصومام .

السؤال الثاني : في تقريره لسياسة التعايش ، قال الرئيس السوفياتي "خروتشوف

" في ظل القوى الراهنة ، لا يستطيع أي إنسان مسترزن متمالك لتمييزه و لعقله ، إلا أن يعترف بأن التعايش السلمي هو الوسيلة الوحيدة و المثلى لتنمية العلاقات الدولية ، ففي دقائق معدودات تستطيع أعشى و سائل الأسلحة أن تصيب أهدافها في أي منطقة من العالم ."

المطلوب : انطلاقا من النص واعتمادا على ما درست :

- 1 - بين خصوصية علاقات القوى التي يشير إليها النص .
- 2 - وضع الأهداف المشتركة لإعلان سياسة التعايش السلمي بين الطرفين .
- 3 - أبرز نتائج سياسة التعايش السلمي .

السؤال الثالث : بعد أقل من ثلاث سنوات من قيام الأمم المتحدة كمنظمة دولية تسمى

لإقرار الحق والعدل والحريّة ، تم في : 15 - 05 - 1948 إعلان قيام دولة إسرائيل واغتصاب فلسطين ، وسارعت الأمم المتحدة والدول الكبرى إلى الاعتراف بها ، ومباركة الإغتصاب . وكان هذا الحدث الخطير أول امتحان صداقية الأمم المتحدة ، والتضامن العربي معاً .

المطلوب : انطلاقا من الفقرة واعتمادا على ما درست :

- 1 - بين مظاهر التواطؤ الدولي .
- 2 - أذكر أسباب هذا التواطؤ .
- 3 - أبرز ردود الفعل العربية عن إعلان قيام دولة إسرائيل .
- 4 - استخلص انعكاسات قيام الكيان الإسرائيلي على المنطقة العربية بين (1948 - 1957) .

الجغرافيا

السؤال الأول:

إن اليابان تمثل قوة إقتصادية عالمية ، فبين 1975 – 1986 تضاعفت قيمة صادراتها حوالي 4 مرات ، وظلت مكونة أساسا من المصنوعات ، و 50% من قيمة الصادرات تتكون من الآلات الصناعية و السيارات ، بينما ظلت تستورد حوالي 77% من الفحم المستعمل في اقتصادها و 98% من البترول و 90% من المعادن .

المطلوب : انطلاقا من الفقرة واعتمادا على ما درست.

- 1 - بين مظاهر عالمية الصناعة اليابانية ؟
- 2 - ابرز مزايا و سلبيات عالمية الصناعة اليابانية.
- 3 - حدّد على خريطة العالم المرفقة مناطق التبادل التجاري الياباني .

السؤال الثاني:

قال الرئيس الهندي " نهرو " عام 1958 ما يلي :

« إن الانقسام الأساسي في عالمنا الحالي هو بين الدول الغنية الصناعية المتطورة و الدول النامية الناقصة التطور ، و التي تناضل من أجل التطور والوجود في الحياة ، و هذا الانقسام أكثر وضوحا و أهمية و خطورة من الانقسام الايديولوجي ، والصراع بين العالمين الشيوعي و الرأسمالي ... »

المطلوب : انطلاقا من هذه الفقرة واعتمادا على ما درست.

- 1 - حدد الأسباب الحقيقية لانقسام العالم الوارد في النص.
- 2 - بين مظاهر انعدام التوازن بين العالمين .
- 3 - أبرز الآفاق المستقبلية لكلا العالمين في ظل التكتلات و التحولات الاقتصادية الأنية.

السؤال الثالث :

-ليك جدول يمثل تطور السكان في الهند.

السنة	1950	1960	1970	1980	1990	1999
السكان (مليون نسمة)	370	450	550	685	844	986

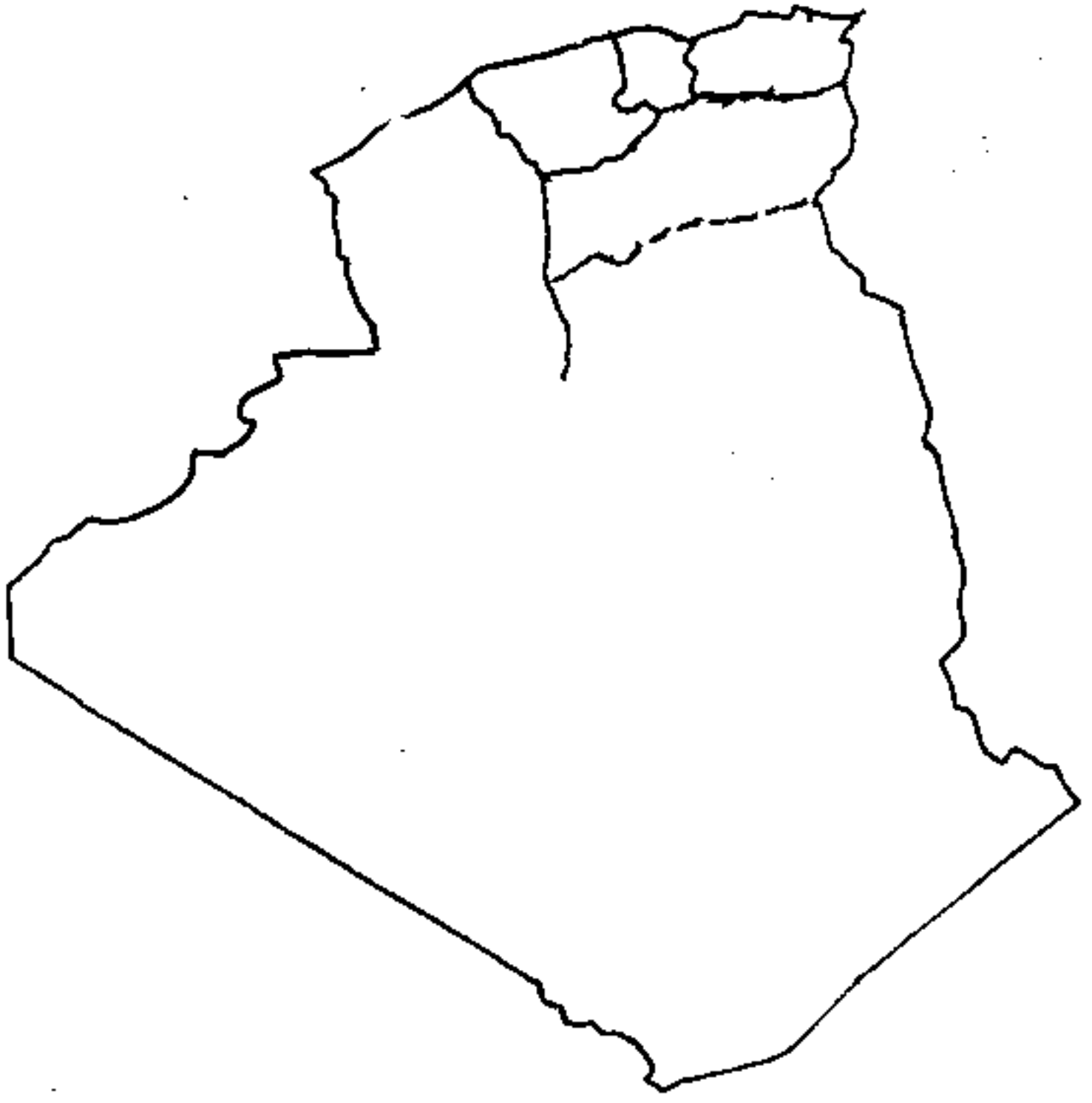
المرجع : الصورة الإقتصادية للعالم ط 2000

المطلوب : 1- مثل الجدول بمنحنى بياني ثم علق عليه :

مقياس الرسم - 1 سم ← 100 م \ ن
- 1 سم ← 5 سنوات

- 2 - حلل الواقع الديمغرافي الهندي.
- 3 - بين انعكاساته على السياسة الزراعية .
- 4 - قيم السياسة الديمغرافية و الزراعية في الهند .

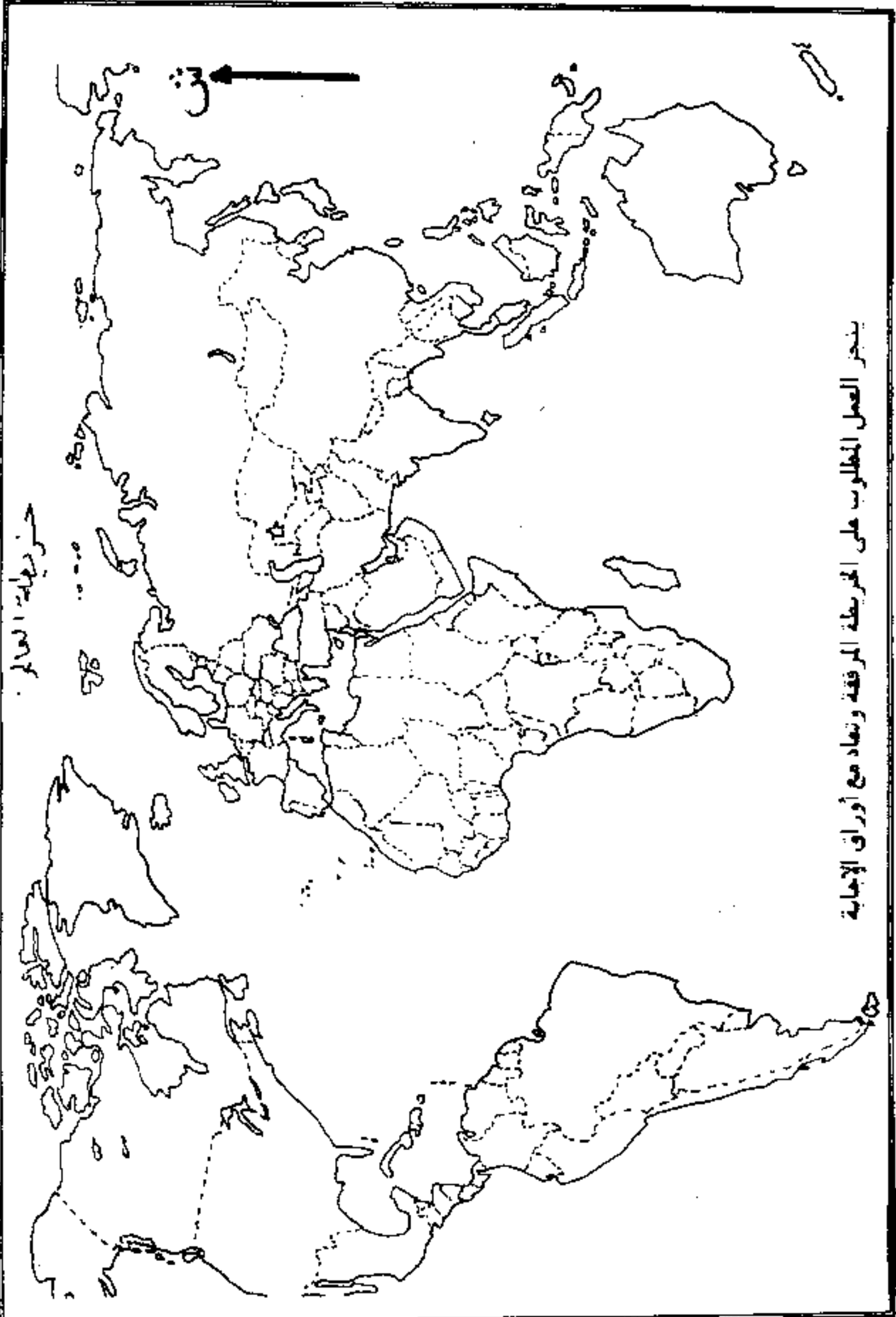

خريطة الجزائر



ينجز العمل المطلوب على الخريطة المرفقة وتعاد مع أوراق الإجابة

ينجز العمل المطلوب على الخريطة المرفقة وتعاد مع أوراق الإجابة

خريطة العالم



تكتب الإجابة النموذجية على هذه الورقة ولا تقل سواها

الإجابة النموذجية لموضوع مقترح لكالوريا دورة : 09

اختيار مادة : التاريخ / الشعبة : الأدب والعلوم الإنسانية / تأليف : الأستاذة

العلامة		عناصر الإجابة	معايير الموضوع
المجموع	مجزأة		
02	08	<p>مؤتمر الصوامع يقيم مستشرق من العمل الثوري ويرسي تواجد تنظيمه لقيادة الثورة نحو الانتصار والدمشق.</p> <p>الانتصارات السياسية والعسكرية للثورة قبل مؤتمر الصوامع:</p> <p>أ - الانتصارات السياسية:</p> <ul style="list-style-type: none"> * تنفيذ كذوبة أن ما يحدث بالجزائر هو أعمال معزولة لقطاع الطرق * نقل القضية الجزائرية للمجال الدولي (انطلاقاً من باندونغ إلى الأمم المتحدة) * انضمام أبرز الشخصيات السياسية إلى الثورة <p>ب - تبيين الجامعة العربية للقضية الجزائرية</p> <p>ج - الانتصارات العسكرية:</p> <ul style="list-style-type: none"> * نجاح مجموعات ليلية بوعفري غير الركن * صعود المنطقة العسكرية الأخرى رغم الحصار المفروض عليها. * فشل مساعي روج جاله سوستيل * النجاحات التي حققتها المنطقة الثانية بمجموعات الشمال القسنطيني من أوت 1955 وما ترتب عنها من نتائج. 	الاحتدم
07	07	<p>الأبعاد السياسية والعسكرية لانعقاد المؤتمر داخل الوطن</p> <p>أ - الأبعاد السياسية:</p> <ul style="list-style-type: none"> * تأكيد لمرتب الثورة * تصدي السلطات الفرنسية التي تدعي بأنهم متحاكمين في الأونما * تأكيد تمولية الثورة وتبنيها ووجدها قيادتها رغم لامرورية أعمالها. <p>ب - الأبعاد العسكرية:</p> <ul style="list-style-type: none"> * تنفيذ الادعاءات القاضية بأن هناك فائز لا سبل للثورة عليه. * تأكيد صور الاستراتيجية العسكرية الفرنسية وقوة إستراتيجيتها للثورة. 	الاحتدم
04	01	<p>التوقيع على الحذب طه:</p> <ul style="list-style-type: none"> - مكان انعقاد المؤتمر - أرقام واسماء الولايات العسكرية 	
02	02	<p>نجاح مؤتمر الصوامع بآنتصار عليهم للثورة وبرايتها الأضواء السياسية الفرنسية في مواجهة الثورة</p>	الاحتدم

الولايات العسكرية للتورة التحريرية

بعد مؤتمر الصومام

109



● مكان انعقاد مؤتمر الصومام

- 01 - أوراس النمامشة
- 02 - الشان القسنطينية
- 03 - القبائل البرية
- 04 - العيزايل
- 05 - وهران
- 06 - الصحراء

العلامة		عناصر الإجابة	معايير الموضوع
110			
المجموع	مجزأة		
04	04 04 04 04	<ul style="list-style-type: none"> - فكيف حردوشوفت، سياسي سوفيياتي، رجل دولة، أسبغ عام الحزب الشيوعي، تولى قيادة الاتحاد السوفيياتي في الفترة بين: 58 - 64. بنى سبيلًا لافتراس وبتعاضد. - الاقارنات والفتاوي للدهن، الاتحاد السوفيياتي 1953 - النص سياسي تاريخي. - يعالج فكرة آسامية (التعاضد السلمي علاج للعلاقات العالمية) 	مقدمة
05	1.5 1.5 02	<ul style="list-style-type: none"> - فصوصية العلاقة بين القوى الراهنة: القوى الراهنة هي الكتلة الشرقية الشيوعية والكتلة الغربية الرأسمالية. - العلاقة بين الكتلتين تتميز بالصراع والعداء. - تعمل كل كتلة على إقصاء الأخرى من المساحة الدولية - انطلاقًا من السياق فوالدسغ. المشاريع الحديثة التواعد والإعلاف العسكرية ... 	
06	1.5 1.5 1.5 1.5	<ul style="list-style-type: none"> - هدافه إعلان سياسة التعاضد السلمي بين القارتين: - التقليل من الذخائر العسكرية - الاهتمام بالاقتصاد والتنمية الداخلية خاصة الاتحاد السوفيياتي. - التقليل من دور التوتو التي أصبحت تهدد الأقطاب - فوسط (مسئلة كويا مثلا) تعاضد النظمين خاصة إرساء قواعد التعاون في ظل تعاضد النظمين خاصة أن الحياطين المتصارع عليه لم يأتوا إلى التكتل والتدهاج - سياسة الحياطين الإيجابي (كتلة الأخر وآسيوي). 	
03	0.5 0.5 0.5 0.5 0.5	<ul style="list-style-type: none"> - نتائج سياسة التعاضد السلمي: - تخليص الاتحاد السوفيياتي عن فكرة الأهمية المركزية وحل حلت الكونفورم - تبادل التريارات بين الاتحاد السوفيياتي والدول الغربية - التعاون الثنائي - انعقاد مؤتمر جوينيف بخصوص التسويات مع النجيا - تسوية المسئلة الكوية بين الطرفين (ارتمه الطورج) - اتفاقيات هدك السلاح النووي ... الخ 	
02	02	<ul style="list-style-type: none"> - إذا كانت سياسة التعاضد السلمي قد فتحت باب الأفراس والتوازن الدولي، فلو لم تفتت بداية التراجع السوفييتي وموشد لانتشار الكتلة الغربية. 	الخاتمة

تكتب الإجابة النموذجية على هذه الورقة ولا تقبل سواها

الإجابة النموذجية لموضوع مقترح لبيكالوريا دورة :

مادة : التاريخ : الشعبة : اللغات والعلوم الشرعية / لغات أجنبية / اللغة :

العلامة		عناصر الإجابة	أور وضوع
111			
المجموع	مجزأة		
02	02	الأسم المتحددة والرقصية الفلسفية عند الحلات قيام الكيان الصهيوني 15 / 05 / 1948 .	مقدمة
05	1	مفاهيم التواطؤ الدولي : - اعتراف القوى الكبرى بدولة إسرائيل (الولايات المتحدة) الاتحاد السوفياتي ، بريطانيا فرنسا ، الصين الوطنية ...) - اعتراف الأمم المتحدة وتمكين من العنوية في المنظمة . - موقف الأمم المتحدة من حرب 1948 . - موقف من الحروب العربية الإسرائيلية - معجز الأمم المتحدة حتى في تنفيذ قراراتها الجاثرة هوت القضية الفلسطينية .	
06	1.2 1.2 1.2 1.5	أسباب التواطؤ الدولي : - تحكيم القوى الغربية في مذقمة الأمم المتحدة من خلال مجلس الأمن . - لأن الكيان الصهيوني أوجدته كل من بريطانيا وتبش الولايات المتحدة . - لأن الحركة الصهيونية تتحكم في المؤسسات الدولية المساسة من خلال تواجد ما عبر الدول الكبرى (الشركات) البنوك - القيادة السياسية . - لأن هذا الكيان أصبح القاعدة الأساسية للدفاع عن مصالح الغرب في الوطن العربي .	
02	01 01	ردود الفعل العربية عن إعلان دولة إسرائيل : - رفض الكيان الصهيوني - إعلان الحرب العربية الأولى 1948	
03	01 01 01	- انعكاسات قيام الكيان الإسرائيلي على المنطقة العربية : * قصود المنطقة الى بؤرة توتر دولية وتولوا الى جبهة الحرب الباردة . * تحولت الى منطقة استراتيجية للكثلة الغربية لشاعر من خلال المد الصهيوني (خلف بغداد - مشروع التطوير) * مقاومة القوم العربي تحت شعار (محاربة المد الشرقي)	
02	02	بعد الكيان الصهيوني أصبح ما رزعه العرب في الوطن العربي (دوسر من خلاله الاتجار بكل أوجهه	تمة

تكتب الإجابة النموذجية على هذه الورقة ولا تقبل سواها

الإجابة النموذجية لموضوع مقترح ليكالوريا دورة :

إخبار مادة : **المختار أخبارا** الشعبة : **آداب وعلوم إنسانية علوم تجريبية** **أجنحة** **تسيير اقتصاد**

العلامة		عناصر الإجابة	مخارج الموضوع
112		السؤال الأول	
المجموع	مجزأة		
02	02	اليابان في ضوء اقتصادها الموارد الأولية ، وضخامة إنتاجها الصناعي	المقدمة
05	01 01 01 01 01	<p>مظاهر عالمية الصناعة اليابانية :</p> <p>1- ضخامة الإنتاج : المولاد 104 م / طن ، 13 في الإنتاج العالمي</p> <p>2- التركيز الصناعي :</p> <p>(طويوتا - ... طويوتا ...)</p> <p>3- تخر الأوساط العالمية (أول ما يقص تباري من العالم)</p> <p>4- التكامل - ما يعرف بالجوهرات الثلاث (صناعة ، توك ، بحث علمي)</p> <p>5- الاستثمار الصناعي في الخارج لها فيها (المرم 1)</p>	
07	0,5 0,5 0,75 0,75 0,75 0,75	<p>مزايا وسلبيات عالمية الصناعة اليابانية :</p> <p>1- المزايا :</p> <p>تشغل 37,8 في مجال اليد العاملة</p> <p>تغطية حاجيات السوق الداخلية والخارجية</p> <p>الجودة والتكلفة المنخفضة</p> <p>الوقت والتعدد المستمر</p> <p>الاستثمارات الضخمة في المجال الصناعي</p> <p>المساهمة الضخمة في الدخل الوطني</p>	
	01 01 01	<p>2- السلبيات :</p> <p>- الاعتماد على السوق الخارجية (- وتصدير)</p> <p>- المنافسة الحادة من طرف القوى الصناعية الكبرى</p> <p>- التلوث</p>	
		<p>النتيجة : هشاشة الاقتصاد الياباني</p>	
04	0,5 0,5 0,5 0,5	<p>المنهجية :</p> <p>الإفاز : الاستيراد</p> <p>العنوان : التصدير</p> <p>النتائج</p>	
02	02	<p>قد ربما تعتبر الصناعة اليابانية معجزة القرن العشرين إلا أنها معرضة لعدم الاستقرار</p>	الخاتمة

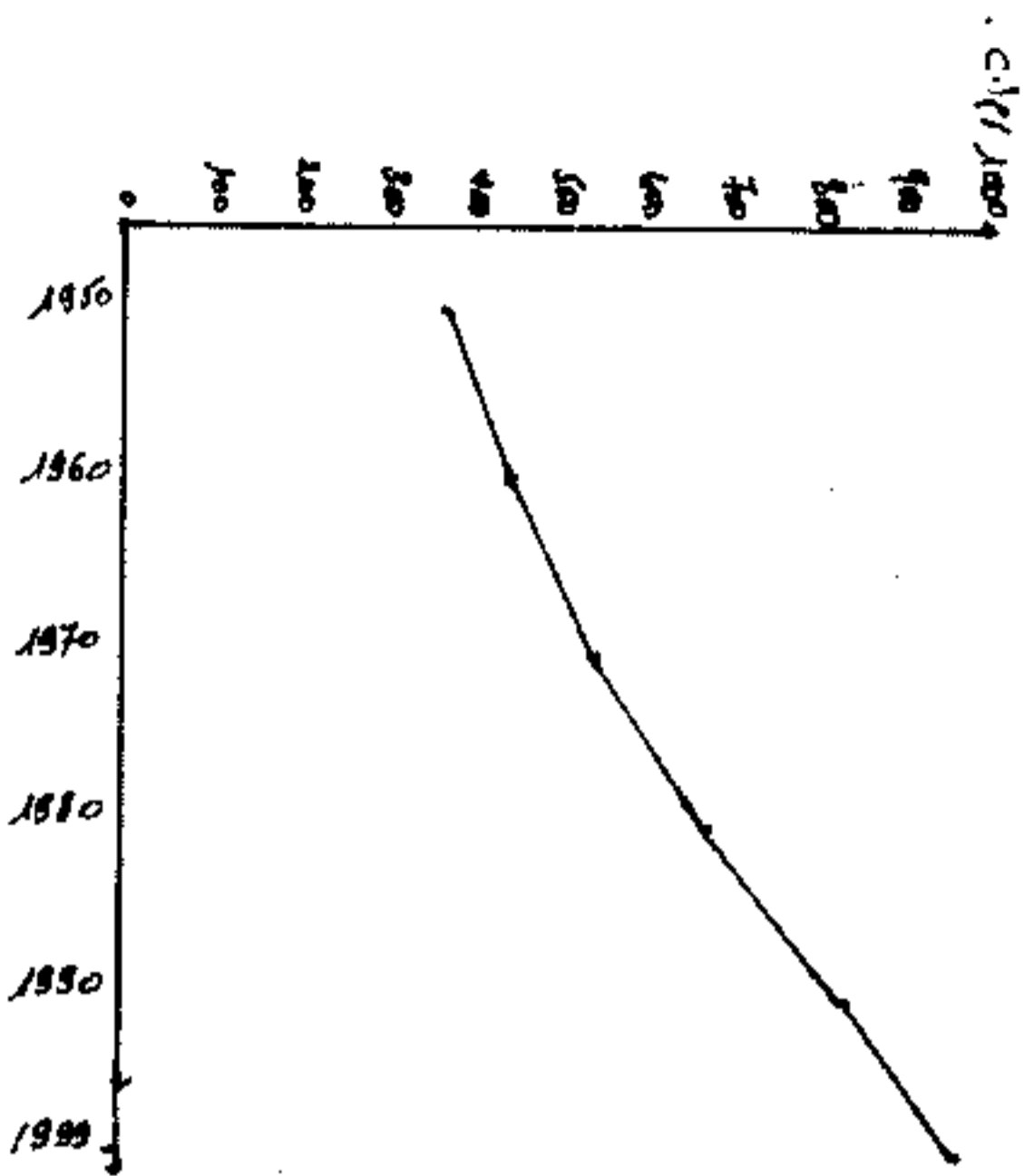
تكتب الإجابة النموذجية على هذه الورقة ولا تقبل سواها

الإجابة النموذجية لموضوع مقترح لبيكالوريا شوية :

اختار مادة : الجغرافيا الشعبة : أداب وعلوم إنسانية علوم كبرياء الخاضع التخصص :

العلامة		عناصر الإجابة	معايير الموضوع
114		السؤال 2	الموضوع
مجزأة	اجموع		
02	02	الوثيقة اقتصاد سياسي. طرح إشكالية الانقسام في العالم بين العالم المتقدم والعالم النامي	المقدمة
08	08	<p>هـ الأسباب الحقيقية لانقسام العالم الازدياد في السنوات :</p> <p>أ- التكنولوجية : - الثورة الصناعية وآثارها (اختلال التوازن)</p> <p>- الحركة الاستعمارية وآثارها (المستغل والمستغل)</p> <p>ب- السياسية : - الاستقرار السياسي في العالم المتقدم</p> <p>- عدم الاستقرار في العالم النامي</p> <p>ج- المالية : - التحكم في الثروة المالية العالمية ومؤسساتها</p> <p>- سوء الاستغلال عند البعض والافتقار رايه عند البعض الأخر</p> <p>د- التكنولوجية : - التحكم في العلوم والتكنولوجيا</p> <p>- الانتقال إلى العيش العلمي والتكنولوجية</p>	التحليل
05	05	<p>هـ مظاهر انعدام التوازنات</p> <p>- مساهمة العالم المتقدم بنسبة 60٪ من الإنتاج الزراعي في العالم</p> <p>90٪ من التجارة العالمية</p> <p>- الدخل الفردي : * النم : 28 الف دولار - اليابان 14 الف دولار * ألمانيا 29 الف دولار * الهند 290 دولار - تشاد 2 دولار البرازيل 10 دولار</p> <p>- استهلاك : 90٪ من مجمل الطاقة العالمية</p> <p>- نفوق نصيب الفرد من المعارك الحربية في العالم المتقدم 3000 حريرة وفي العالم المتخلف لا يتجاوز 800 حريرة</p> <p>- نسبة اليد العاملة الزراعية في العالم المتقدم تقل عن 10٪ وفي العالم المتخلف 40٪</p>	النتيجة
03	1,5 1,5	<p>الاتفاق المستقبلية :</p> <p>1- العالم المتقدم : يزداد غنى وهيمنة وتقدم ما -</p> <p>2- العالم المتخلف : يزداد فقرا، تبعية وتخلفا</p>	
02	02	<p>الانقسام الاقتصادي العالمي الخطر من الانقسام الإيديولوجي</p> <p>ويستدعي إعادة النظر في العلاقات الدولية بين الانقياد والاعتماد</p>	الخاتمة

العلامة		عناصر الإجابة	مخاور الموضوع
115		السؤال الثالث	
مجموع	مجزأة		
02	02	الوثيقة جغرافية تتناول تطور السكان في الهند وعلاقتهم بالسياسة الزراعية	المقدمة
04	03 05 05	الرسم البياني : - الإجاز - العنوايف - المفتاح	9
4,5	1,5 1,5	تحليل الواقع الديمغرافي في الهند : - الزيادة السكانية المرتفعة - معدل النمو الديمغرافي 1,6% بـ مؤشر التصويب 1,3% في 2007 بسبب : - المعتقدات - العواصم الطائفيين - طبيعة المجتمع الفلاحي (الحاجة إلى اليد العاملة داخل الأسرة)	
03	01,5 1,5	الاذكاسات : - انعدام التوازن بين النمو السكاني والنمو الزراعي - عدم تحقيق الأمن الغذائي	
03	1,5 1,5	تقييم السياسة السكانية والزراعية في الهند - السياسة السكانية : فشل السياسة السكانية في الهند (ارتفاع معدلات النمو) - السياسة الزراعية : نجحت السياسة الزراعية في الهند ، ويتجلى ذلك من خلال احتلال مراتب عالمية أولى في بعض المنتجات	
1,5	1,5	الاشتمية : احتلال الموازاة بين النمو الديمغرافي والنمو الزراعي	
02	02	الأمن الغذائي في الهند برهمنه بتعاج السياسة السكانية وتذليل الصعوبات الطبيعية (الفيضانات) وتحقيق الاستقرار السياسي والاجتماعي	الخلاصة



تطور السكان في الهند
 ما بين 1950 - 1999

القياس = 1 سم = 1000000
 5 سنوات