

امتحان بكالوريا التعليم الثانوي (دورة جوان 2003)

الشعبة : آداب وعلوم إنسانية + آداب و علوم اسلامية + آداب ولغات أجنبية + تسيير و الحساب المدة : 3 ساعات

اختبار في مادة التاريخ و الجغرافيا

أجب عن سؤال في التاريخ وواحد في الجغرافيا .

التاريخ :

السؤال الأول :

عملت الجزائر منذ استرجاع سيادتها على إحداث تغييرات جذرية على الوضع الذي خلفته فترة استعمارية استيطانية طويلة ، مسخرة كل الإمكانيات الوطنية المادية والبشرية لإعادة بناء دولة قوية مستقلة .

المطلوب : انطلاقا من الفقرة واعتمادا على ما درست :

- 1 - أذكر ظروف الجزائر الاقتصادية والاجتماعية غداة الاستقلال. (08 نقاط)
- 2 - أبرز السياسة الاقتصادية والاجتماعية المنتهجة ما بين (1962 - 1980) . (04 نقاط)
- 3 - قيم هذه السياسة . (04 نقاط)

المنهجية : 04 نقاط (مقدمة + خاتمة)

السؤال الثاني :

ورد في ميثاق الصومام : 20 أوت 1956 ما يلي :

>> ... إن الزحف الثوري في بلدان شمال أفريقيا بالرغم من اعتماد خطة سياسية مشتركة ... دفع الاستعمار الفرنسي إلى اتباع سلوك دفاعي اعتباطي وعاجل ... إن المعاهدات الفرنسية التونسية التي كانت من المفروض أن تؤدي دور الحاجز الاستعماري الجديد قد تجاوزتها الأحداث ... وكان تطور الأزمة المغربية السريع والضغط المتلاحق الذي أحدثته الثورة الجزائرية من العوامل الحاسمة في انقلاب الموقف الرسمي الفرنسي ... إن هذا التغيير المفاجئ إنما دعت إليه أسباب استراتيجية ... <<

- وثائق مؤتمر الصومام - منشورات المتحف الوطني للمجاهد .

المطلوب : انطلاقا من النص واعتمادا على ما درست .

- 1 - بين الوضع العام في كل من تونس والمغرب الأقصى والجزائر سنة 1954 . (04 نقاط)
- 2 - حدد مضمون المعاهدات الفرنسية - التونسية التي أشار إليها النص . (04 نقاط)
- 3 - أبرز الضغط المتلاحق للثورة الجزائرية في تغيير السياسة الفرنسية . (03 نقاط)
- 4 - قيم الإستراتيجية الفرنسية في مواجهة حركة التحرر في المغرب العربي . (03 نقاط)

المنهجية : 06 نقاط (مقدمة + خاتمة)

السؤال الثالث :

اعتقدت شعوب العالم بأن نهاية الحرب العالمية الثانية ستتوج بالانتقال من التنظيم الدولي القديم القائم على مبادئ سيطرة وهيمنة القوى الاستعمارية إلى تنظيم دولي جديد يقوم على مبادئ التعاون والحرية والعدالة ، إلا أن مظاهر التنظيم الأول ظلت قائمة .

المطلوب : انطلاقاً من الفقرة واعتماداً على ما درست :

- 1 - حدد المقصود بـ " التنظيم الدولي الجديد " . (03 نقاط)
- 2 - أذكر أهداف التنظيم . (05 نقاط)
- 3 - أبرز مظاهر هيمنة القوى الاستعمارية . (05 نقاط)
- 4 - علل استمرار هذه الهيمنة . (03 نقاط)

المنهجية : 04 نقاط (مقدمة + خاتمة)

الجغرافيا :

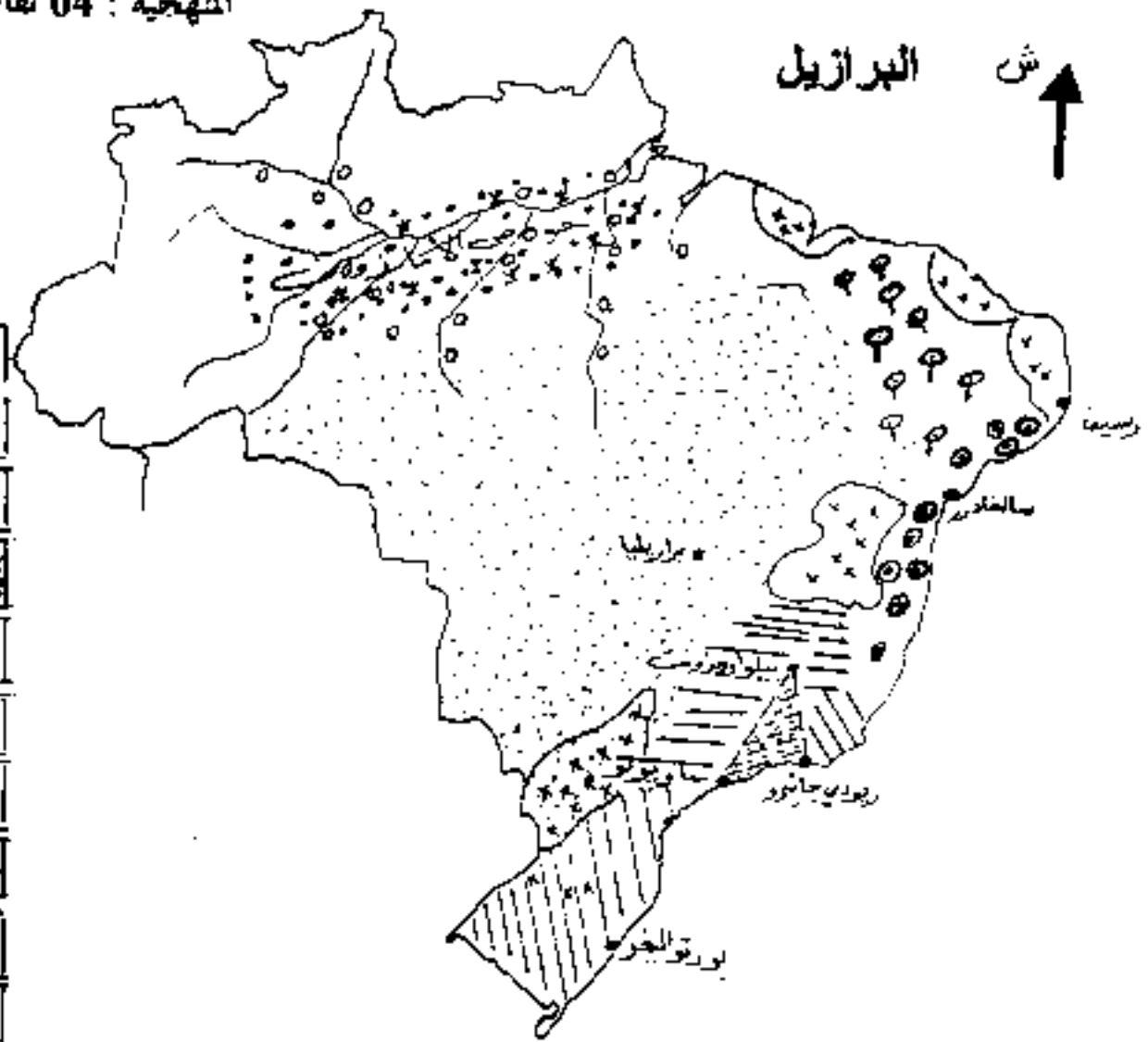
السؤال الأول :

اعتمدت دولة البرازيل استراتيجية تنموية خاصة بها .

المطلوب : انطلاقاً من العبارة واعتماداً على ما درست .

- 1 - حدد أهداف الاستراتيجية التنموية البرازيلية . (04 نقاط)
- 2 - أبرز سلبياتها وإيجابياتها . (09 نقاط)
- 3 - انطلاقاً من الخريطة أدناه ، بين مدى نجاح الاستراتيجية التنموية البرازيلية . (03 نقاط)

المنهجية : 04 نقاط (مقدمة + خاتمة)



المفتاح :

مراكز صناعية كبرى	●
المثلث الصناعي	▨
مراعي	•••••
غابات كثيفة + مستنقعات	⊗
قصب السكر	⊙
مطاط	oo
قمح وفول الصويا	▨▨▨
بن	▨▨▨
زراعة متنوعة	⊗
قطن	⊙

السؤال الثاني :

>> ... وفي العصر الذي يصعد فيه الإنسان إلى الفضاء ويحول معجزات علمية وتقنية إلى أفعال ، انخفض الإنتاج الغذائي للفرد في كثير من البلدان المتخلفة ، وفي الوقت الذي يواجه فيه الكثير من البلدان المتطورة بمزيد من الاهتمام ، زيادة وقوع الأمراض الناجمة عن التخمة الغذائية ، وتصرف مئات الملايين من الدولارات لتغذية الحيوانات الأليفة ، يعاني في الهند فقط وطبقا لمعطيات " الفاو " 201 مليون كائن بشري من سوء التغذية و 27 مليونا في بنغلادش و 14 مليونا في نيجيريا و 12 مليونا في كل من البرازيل وإثيوبيا ، والباكستان ... ويعاني أكثر من 40 % من سكان تشاد ومالي وموريطانيا من الجوع ... والواقع الأليم هو أن الجوع يميل إلى الازدياد ، فسيرتفع عدد الجائعين إلى ما لا يقل عن 750 مليونا في بداية القرن الحادي والعشرين ... <<

كتاب : أزمة العالم الاقتصادية والاجتماعية وانعكاساتها على البلدان المتخلفة .

تأليف : فيدال كاسترو ، ص 112 الطبعة الثانية .

المطلوب : انطلاقا من الوثيقة واعتمادا على ما درست :

- 1 - بين واقع الغذاء في العالم .
- 2 - علل التخمة والجوع الواردة في الوثيقة .
- 3 - أبرز انعكاسات ذلك على العالمين ، (العالم المتقدم ، العالم المتخلف) . (04 نقاط)
- 4 - حدد على الخريطة المرفقة الدول الواردة في النص . (03 نقاط)

المنهجية : 04 نقاط (مقدمة + خاتمة)

السؤال الثالث :

الجدول الآتي يمثل تطور إنتاج بعض المحاصيل لزراعية في كل من الصين والولايات المتحدة
بـ (1000 طن) .

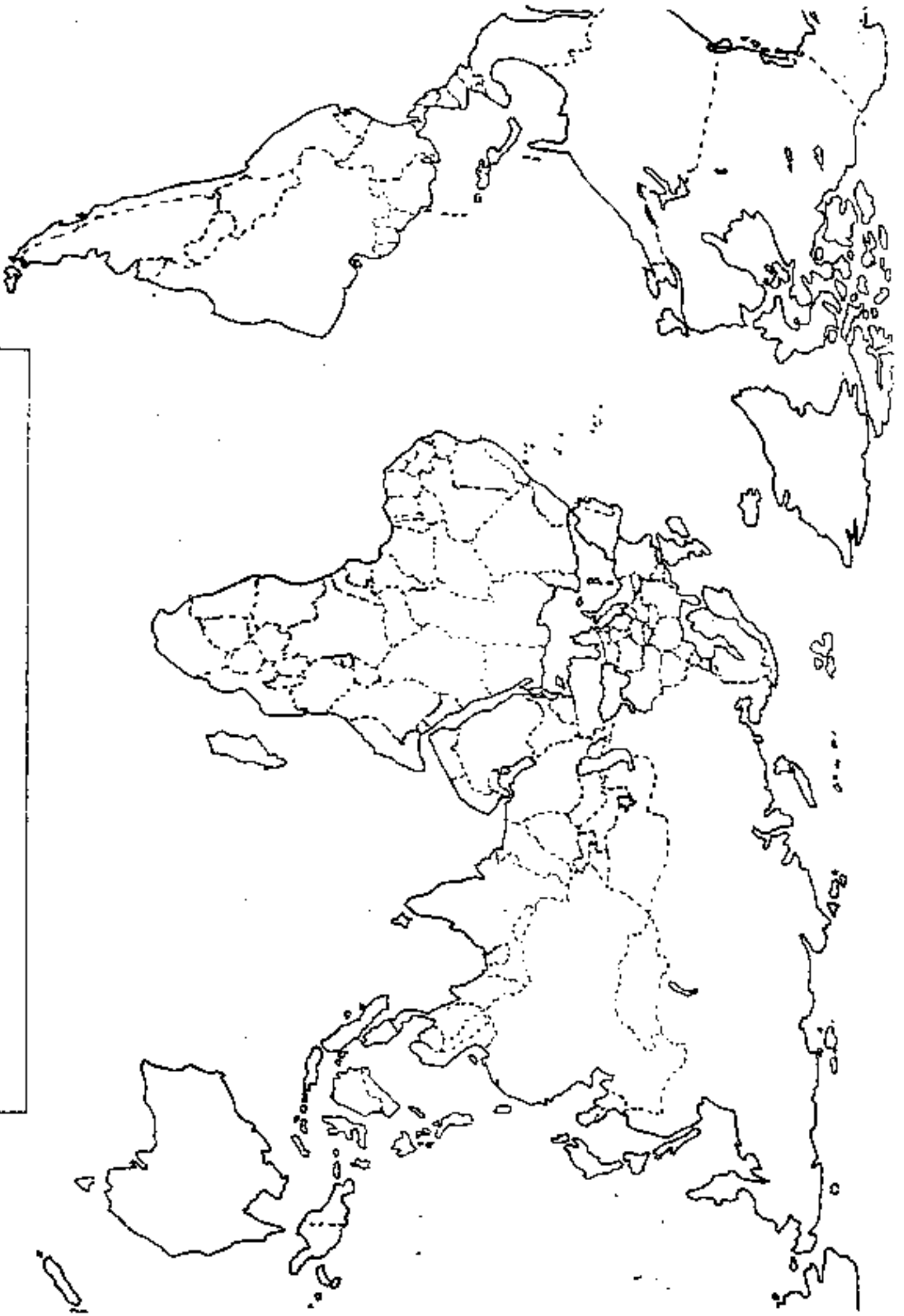
المحصول	الدولة	1990	1998	1999	الترتبة
الأرز	الصين	191589	193079	200719	1
	الولايات المتحدة	7080	8630	9622	10
القنبرة	الصين	97158	124338	129298	2
	الولايات المتحدة	201532	247943	238287	1
القمح	الصين	98232	110000	114400	1
	الولايات المتحدة	74473	69410	62777	3

الصورة الاقتصادية للعالم 2001

المطلوب :

- 1 - مثل معطيات الجدول بأعمدة بيانية في مجال واحد بمقياس
1 سم ← 20 ألف طن (04 نقاط)
- 2 - علق على الرسم . (03 نقاط)
- 3 - أذكر عوامل تفوق البلدين في إنتاج هذه المحاصيل . (02 نقاط)
- 4 - بين أهداف السياسة الزراعية في البلدين . (04 نقاط)
- 5 - حدد مشاكل الزراعة في البلدين . (03 نقاط)

المنهجية : 04 نقاط (مقدمة + خاتمة)



ينجز العمل المطلوب على الخريطة المرفقة وتعاد مع أوراق الإجابة

تكتب الإجابة النموذجية على هذه الورقة ولا تقبل سواها

الإجابة النموذجية لموضوع مقترح ليكالوريا دورة : جوان 2003

اختبار مادة : التاريخ (السؤال 1) . الشعبة : آداب العلوم والعلوم الإسلامية المدة :

العلامة		عناصر الإجابة	محاور الموضوع
100			
المجموع	مجزأة		
02	02	الجزائر بين الإدراك الاستعماري والثقيل ومشروع التنمية	المقدمة
08	01 01 01 01 01 01 01	1- وظائف الجزائر: أ- اقتصادية: - قاعدة صناعية منعدمة - زراعة استعمارية - مديونية ثقيلة - ارتباط الاقتصاد الجزائري بالفرنسي - الفوارق الجهوية (الساحل والداخل، المدينة والريف) ب- اجتماعية: - مخلفات حرب التحرير (50٪ من الشعب ينتظر من الدولة حل مشاكله) - التلوث الأسود - الهجرة بنوعها	
04	01 0.5 0.5 01	2- السياسة الاقتصادية والاجتماعية المشهجة بين 80/62 اقتصاديا اقتصاديا - اقتصاد انتعاش الأسلوب الاشتراكي في التنمية - التأميمات - التخطيط - التوازن الجهوي اجتماعيا: - تحقيق العدالة الاجتماعية (التعليم - الصحة - السكن - العمل ...)	
04	01 01 01 0.5 0.5	3- تقييم السياسة: - انهاء النفوذ الأجنبي (الشركات) وبسط السيادة الوطنية على البلاد - إلغاء القطاعات وبناء شبكة مائة من السدود - ظهور قطاع صناعية (الديد والعلبة، كبرى البرول - الميكانيكا) - ديمقراطية التعليم ومجانية العلاج - تحسين الاطار العام للمعيشة	
02	02	رغم ثقل الحركة العمومية عن الفترة الاستعمارية إلا أن الدولة الجزائرية استطاعت رفع التحدي داخليا وخارجيا.	الخاتمة

تكتب الإجابة النموذجية على هذه الورقة ولا تقبل سواها

الإجابة النموذجية لموضوع مقترح لبيكالوريا دورة : جوان 2003

اختيار مادة : التاريخ (المسؤول 2) ... الشعبة : آداب لغات أجنبية ... المدة :

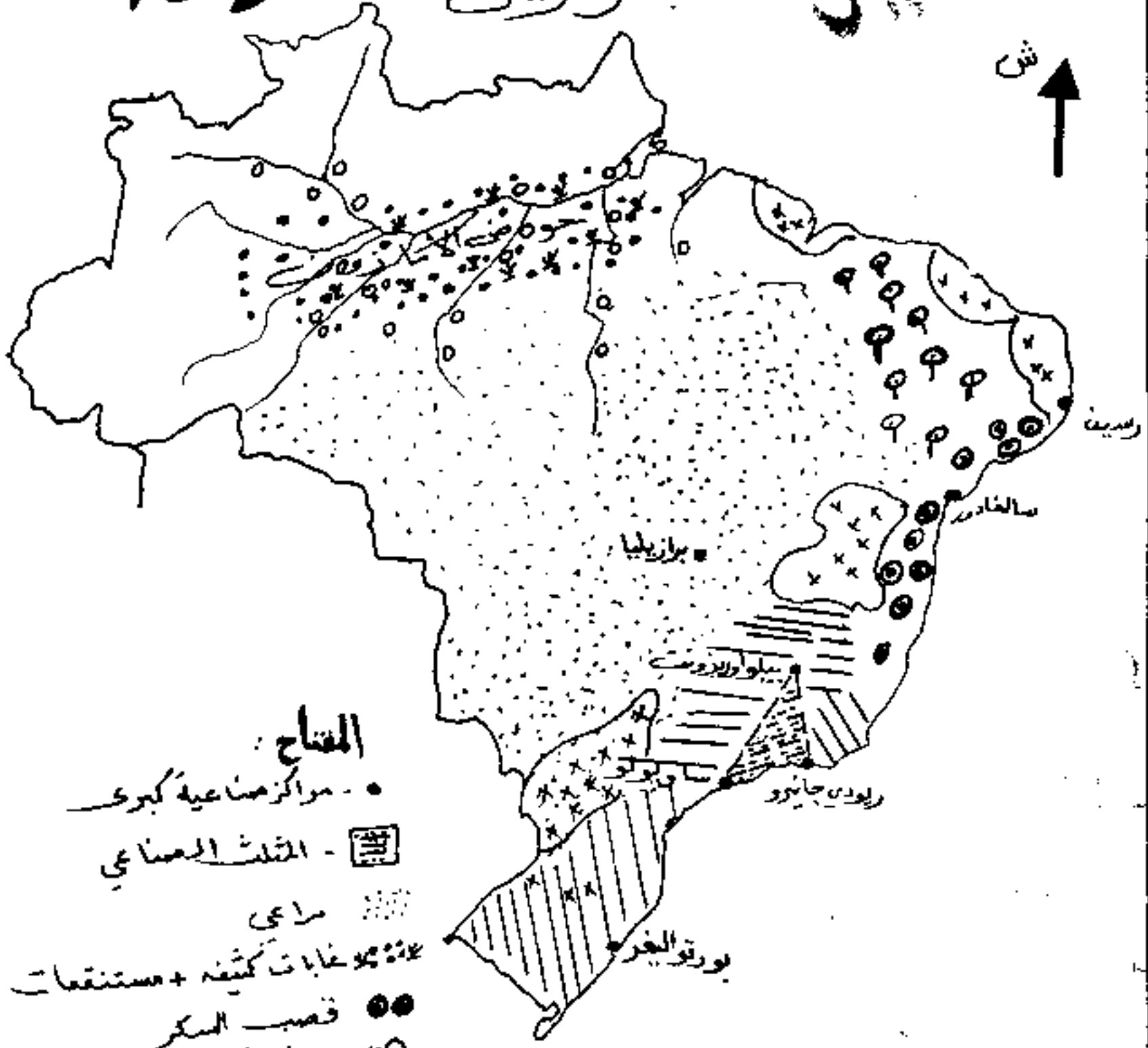
العلامة		عناصر الإجابة	معايير الموضوع
المجموع	مجزأة	101	
04	01	النسب : ميثاق الصومام - هو الوثيقة الثامنة للثورة الجزائرية بعد بيان أول نوفمبر 1954 الطار الزموني : ص 101/102 - المكافئ : الصومام - حماية الولاية الثالثة - ك.أ طبيعة النسب : تاريخي سياسي . الفكرة الرئيسية : وحدة نضال متعرب (تونس، المغرب، الجزائر) وانقلاب الموضع الرسمي الفرنسي .	المقدمة
04	02	1- الموضع العام سنة 1954 في : 2- تونس : - انتشار المظاهرات في المدن (مارس - ديسمبر 1954) . - إعلان فرنسا عن قبولها مبدأ الاستقلال الداخلي لتونس . - تشكيل الحكومة الوطنية برئاسة الطاهر بن عمار . 3- المغرب : - مظاهرات شعبية عارمة في الذكرى الأولى لتفني سلطان المغرب . - تضامن الكفاح المسلح . 4- الجزائر : - تأسيس اللجنة الثورية للوحدة والعمل . - اجتماع لجنة (20) والتنظيم لتفجير الثورة (19.11.54) . - اندلاع الثورة ونشر بيان أول نوفمبر 1954 - تأسيس الجبهة .	العرض
04	03	1- مضمون المعاهدات التي أشار إليها النص : تونس : - معاهدة الحكم الذاتي (1955/6/3) تتضمن : - اعتراف فرنسا لتونس بالسيادة الكاملة على جميع شؤونها الداخلية . - احتفاظ فرنسا بالشؤون الخارجية . " " " " المعمرين بامتياز انهم وأمتهم . - إقامة إقارمهم كمن بين فرنسا وتونس .	
03	01	2- الضغط المتلاحق للثورة الجزائرية في تغيير السياسة الفرنسية : - اشتداد الثورة في الجزائر (صدا أوت 1956) - عجز فرنسا عن المواجهة (تونس - المغرب - الجزائر) - الانتصار الدبلوماسي في مؤتمر بانورنغ 1956 .	

تكتب الإجابة النموذجية على هذه الورقة ولا تقبل سواها

الإجابة النموذجية لموضوع مقترح ليكالوريا دورة : جوان 2007

إختبار مادة : الجغرافيا (السؤال الثاني) الشعبة : آداب وعلوم إنسان إسلامية المدة :

العلامة		عناصر الإجابة	مخارج الموضوع
المجموع	مخزاة		
12	02	استراتيجية التنمية في البرازيل بين الواقع والآفاق -	المقدمة
04	01 01 01 01	1- الأهداف الاستراتيجية التنموية : - تحقيق تنمية شاملة (زراعة، صناعية، خدمات) - جلب الاستثمارات الأجنبية - تحقيق الرفاهية الاجتماعية - تنويع مصادر الدخل	
05	01 01 01 01	2- سلبيات وإيجابيات الاستراتيجية التنموية : 2- سلبيات : - اتساع الطبقة في البرازيل (فقر مدقع للأغلبية، ثراء فاحش للأقلية) - ارتفاع حجم الديونية أكثر من 232 مليار \$ (1998) - سيطرة الشركات المتعددة الجنسيات على اقتصاد البرازيل - تحويل وتوجيه الأرباح الناتجة عن الفعول المتصدين إلى البرازيل الغربية - ارتفاع نسبة التضخم وانتشار البطالة	
04	01 01 01 01	3- إيجابيات : - جعل البرازيل قوة اقتصادية - توفير 90% من حاجيات السكان خاصة الصناعية منها - المساهمة في التجارة الدولية لمنتجات زراعية وصناعية - مساهمة الزراعة والصناعة في الدخل القومي بنسب معتبرة	
03	01 0.5 0.5 01	3- التزلية، مدى نجاح الاستراتيجية التنموية : - النجاح نسبي جدا (توسع المشاريع، زراعة، صناعة) - فشل الاستراتيجية التنموية هي الريبة الفالدية - عدم تحقيق التوازن الجهوي - تركز معظم الأنشطة على السواحل ولها الأثر السلبي بالأنشطة الخارجية - سيطرة الزراعة التقليدية	
02	02	بعد التجربة الاقتصادية البرازيلية نموذج لسوء استغلال الاستثمار الأجنبي	الخاتمة

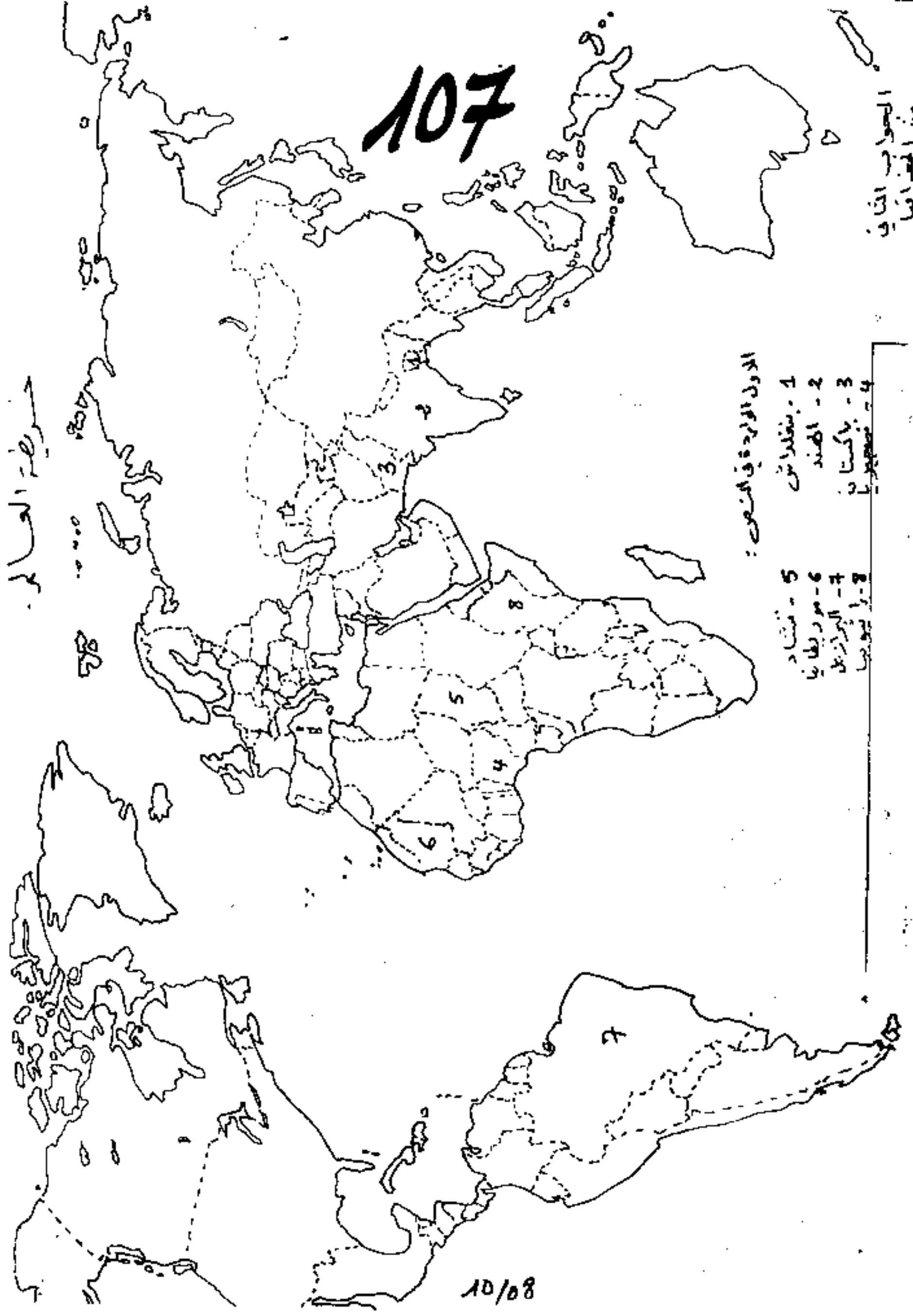


- المفتاح:**
- - مراكز صناعية كبيرة
 - ☐ - المثلث الصناعي
 - ⋯ - ماعى
 - ⊕ - غابات كثيفة + مستنقعات
 - - قصب السكر
 - ∞ - سطات
 - |||| - قح وفول الصويا
 - ≡ - بن
 - xx - زراعة متنوعة
 - - قطن



العلامة		عناصر الإجابة	معايير الموضوع
<h1>106</h1>			
المجموع	مجزأة		
02	02	الوثيقة جغرافية اقتصادية العلم والتكنولوجيا من جهة أخرى.	المقدمة
03	01.1 01.1	1 واقع الغذاء في العالم : يتميز عالم اليوم بالانقسام إلى : - مجموعة تعاني من النقص الغذائية وهي : أمريكا الشمالية أوروبا وبعض دول آسيا ، استراليا ونيوزلندا - وتتحكم في الغذاء انتاجا وتسويقا . - مجموعة أخرى تعاني من العجز الغذائي وهي : معظم إفريقيا وآسيا وأمريكا اللاتينية ، وتعاني من السعي الغذائية المفرطة للعالم المتقدم .	
06	0.5 0.5 0.5 0.5 0.5 0.5 0.5 0.5 0.5 0.5	تعليل النقص والوجع : P - التنمية الغذائية تعود أساسا إلى : - حسن استغلال الإمكانيات الطبيعية - التطور التكنولوجي - وفرة اليد العاملة والخبرة الفنية - وفرة رؤوس الأموال - البحث ليعود إلى : - سوء استغلال الإمكانيات الطبيعية - التلوث التكنولوجي - قلة رؤوس الأموال - نقص الخبرة - الضوابط الجغرافية المتزايدة	2
04	02 02	3- الاتكاسات على العالمين : - العالم المتقدم يتحكم في الإنتاج والأسعار ، يستخدم الغذاء كوسيلة ضغط - العالم المتخلف : تزايد نفقات الحصول على الغذاء - الاتكاس على السعي للغذائية	3
03	0.5 2.5	4- الوثيقة : تعيين الدول الواردة في النص . - الجزائر - المغرب	4
02	02	لا يمكن للعالم المتخلف التغلب على مشكلة الجوع في ظل الظروف الاقتصادية الدولية الراهنة المتمثلة في رغبة العالم المتقدم في الهيمنة والسيطرة .	خاتمة

خريطة العالم



الأول الواردة في المنصوح :

- 1 - بنغلاديش
- 2 - الهند
- 3 - باكستان
- 4 - بنغلاديش
- 5 - فنزلا
- 6 - موريطانيا
- 7 - البرازيل
- 8 - جنوب أفريقيا

تكتب الإجابة النموذجية على هذه الورقة ولا تقبل سواها

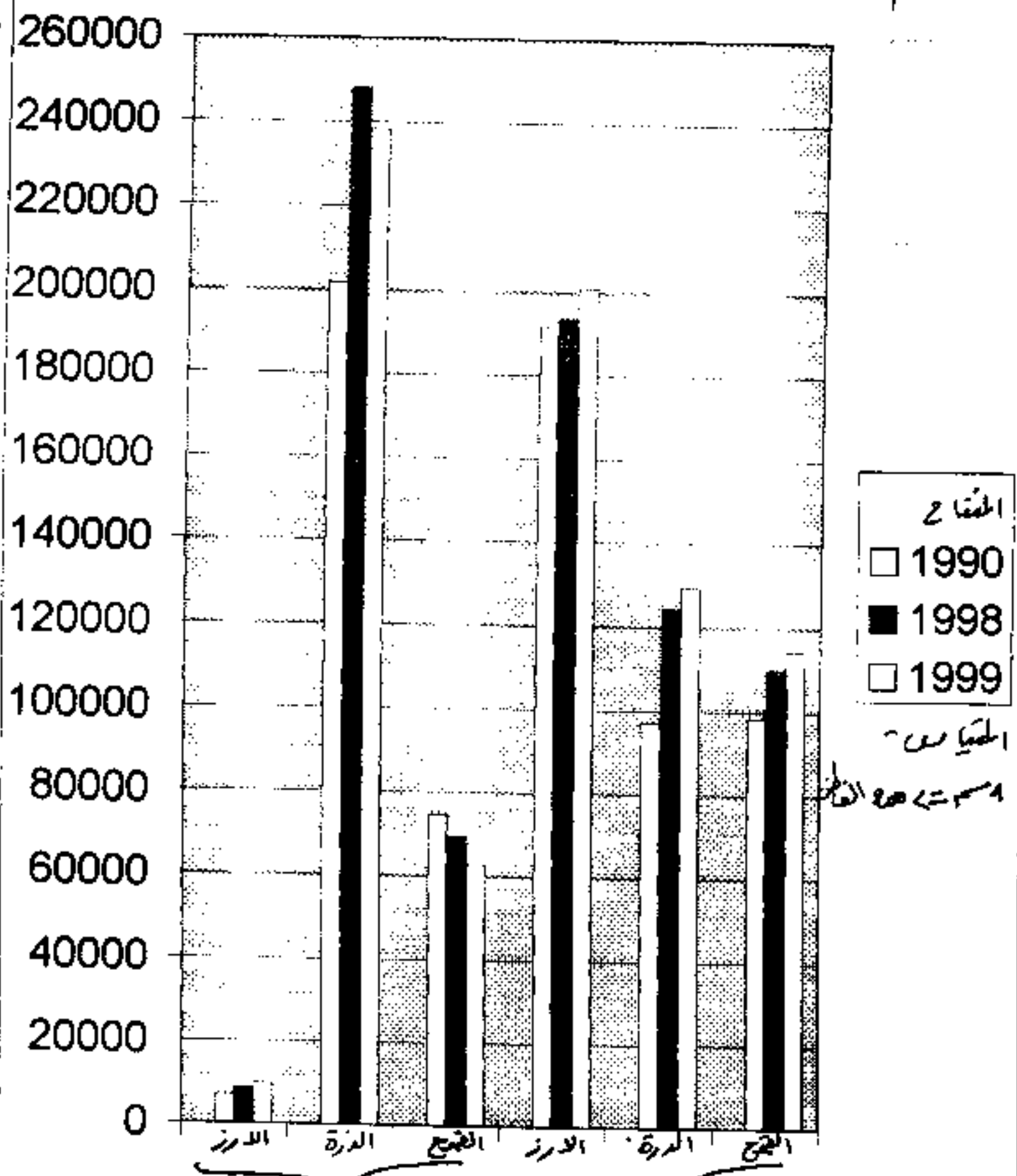
الإجابة النموذجية لموضوع مقترح لبيكالوريا دورة : جوان 2009

اختيار مادة : الجغرافيا (السؤال 3) الشعبة : آداب/ع.إ.إ.أ.إ.ع الإسلامية . المدة :

العلامة		عناصر الإجابة	محاور الموضوع
مجزأة	المجموع		
<h1>108</h1>			
02	02	الوثيقة مغرافية اقتصادية تعالج تطور (البوب) في كل من وم أ. اليمن السعيدة، من 1999 إلى 1999.	المقدمة
04	0.5 0.5 0.5 2.5	1- إنجاز الرسم : العنوان : - مقياس الرسم : - المفتاح : - الأجزاء :	
03	01 01 01	2- التعليق على الرسم : من الرسم يتضح : 1- ضخامة إنتاج البوب في البلدين واختلال الصدارة - 2- تزايد الإنتاج في اليمن السعيدة أكثر من وم أ. بالنسبة للقمح 3- تزايد الإنتاج في وم أ. بالنسبة للارز والذرة.	
02	02	3- عوامل تفوق البلدين : - عوامل طبيعية وبشرية ملائمة المناخ، خصوبة التربة، اليد العاملة، السوق، رؤى العمال الريه...	
04	02 02	4- أهداف السياسة الزراعية في البلدين : 1- اليمن السعيدة : الأولوية لزراعة البوب - لتحقيق الاكتفاء الذاتي " " الأمن الغذائي 2- وم أ. - للتحكم في الأسواق - لاستخدامه كسلاح	
03	1.5 1.5	5- مشاكل الزراعة : - في اليمن : الفيضانات - الميات - الأعاصير - قح التربة - عدم الكان - في وم أ. : ضخامة الإنتاج، صعوبة التسويق، المنفعة، الجفاف التربة في المنطقة الغربية - ضعف مدخول الفلاح.	
02	02	تختلف اليمن عن وم أ. من حيث الاهدان، لكن عوامل رعي الزراعة متشابهة	الخاتمة

تطور إنتاج بعض المحاصيل الزراعية في كل من الصين والولايات المتحدة الأمريكية ما بين

109 1999-1990



الولايات المتحدة الأمريكية والصين

تطور إنتاج بعض المحاصيل الزراعية في كل
من الصين والولايات المتحدة الأمريكية ما بين

109 1999-1990

